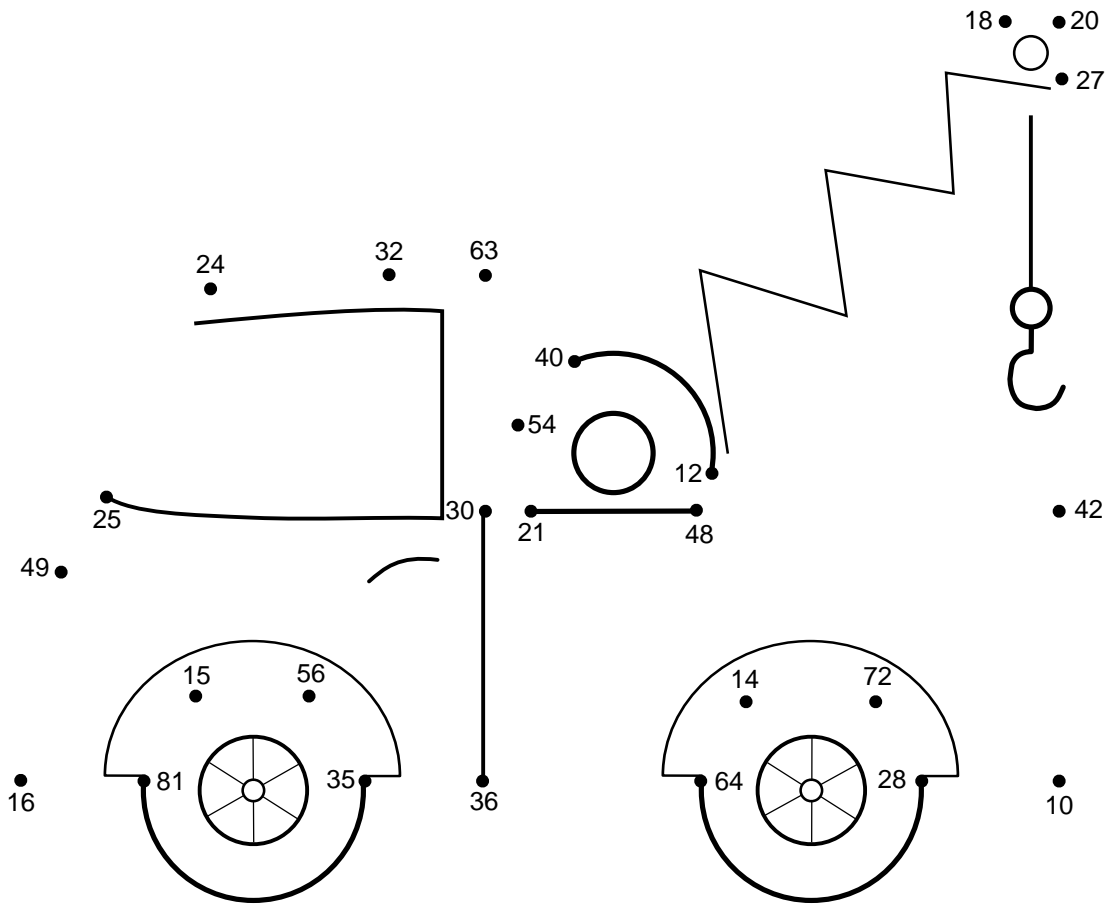



Udregn nedenstående regnestykker for at færdiggøre tegningen. Begynd med regnestykket ud for **Start** og fortsæt med nummer **01** til **25**. Brug resultaterne for at finde den næste prik der skal tegnes til. Når du er færdig kan du farvelægge tegningen.

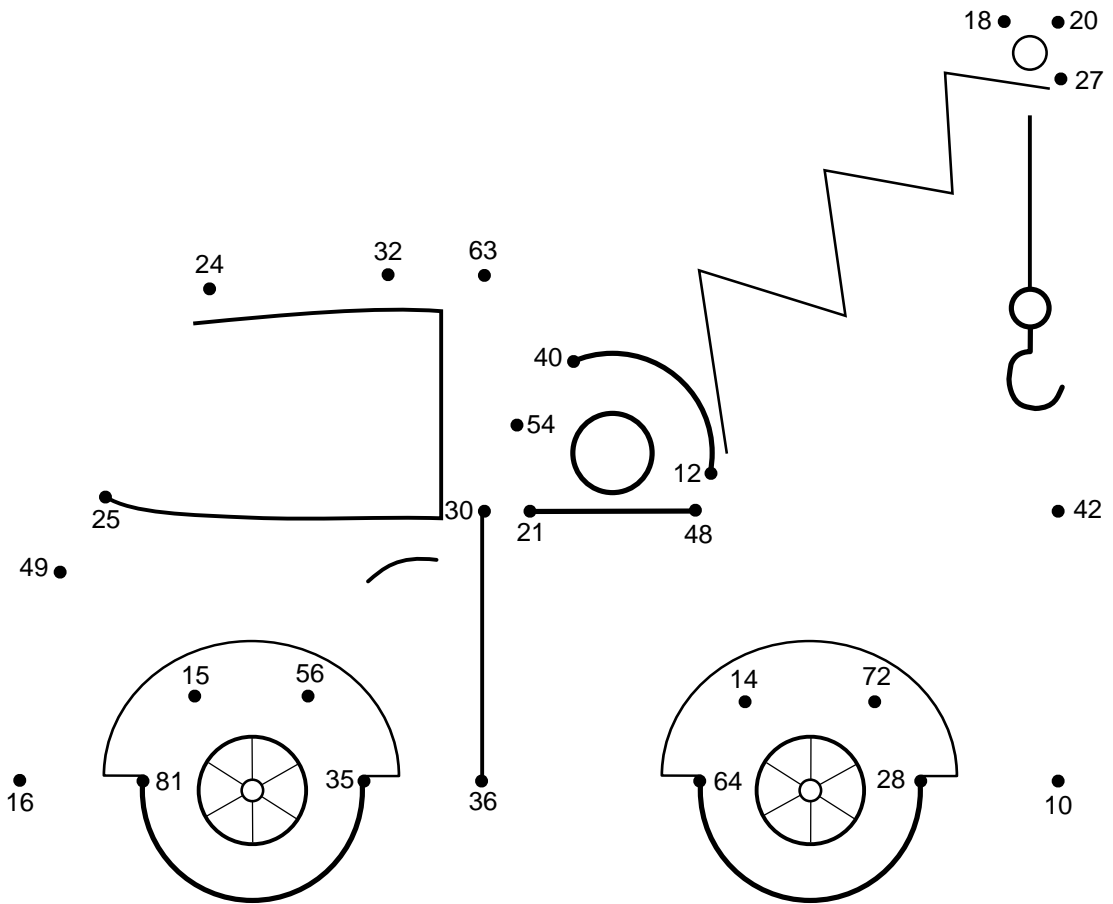


Start 4 · 6 =

01 4 · 8 =	02 9 · 7 =	03 5 · 6 =	04 7 · 3 =	05 9 · 6 =
06 5 · 8 =	07 6 · 3 =	08 5 · 4 =	09 9 · 3 =	10 4 · 3 =
11 8 · 6 =	12 6 · 7 =	13 5 · 2 =	14 4 · 7 =	15 9 · 8 =
16 2 · 7 =	17 8 · 8 =	18 6 · 6 =	19 7 · 5 =	20 7 · 8 =
21 5 · 3 =	22 9 · 9 =	23 4 · 4 =	24 7 · 7 =	25 5 · 5 =



Udregn nedenstående regnestykker for at færdiggøre tegningen. Begynd med regnestykket ud for **Start** og fortsæt med nummer **01** til **25**. Brug resultaterne for at finde den næste prik der skal tegnes til. Når du er færdig kan du farvelægge tegningen.



Start $4 \cdot 6 = 24$

01 $4 \cdot 8 = 32$	02 $9 \cdot 7 = 63$	03 $5 \cdot 6 = 30$	04 $7 \cdot 3 = 21$	05 $9 \cdot 6 = 54$
06 $5 \cdot 8 = 40$	07 $6 \cdot 3 = 18$	08 $5 \cdot 4 = 20$	09 $9 \cdot 3 = 27$	10 $4 \cdot 3 = 12$
11 $8 \cdot 6 = 48$	12 $6 \cdot 7 = 42$	13 $5 \cdot 2 = 10$	14 $4 \cdot 7 = 28$	15 $9 \cdot 8 = 72$
16 $2 \cdot 7 = 14$	17 $8 \cdot 8 = 64$	18 $6 \cdot 6 = 36$	19 $7 \cdot 5 = 35$	20 $7 \cdot 8 = 56$
21 $5 \cdot 3 = 15$	22 $9 \cdot 9 = 81$	23 $4 \cdot 4 = 16$	24 $7 \cdot 7 = 49$	25 $5 \cdot 5 = 25$

