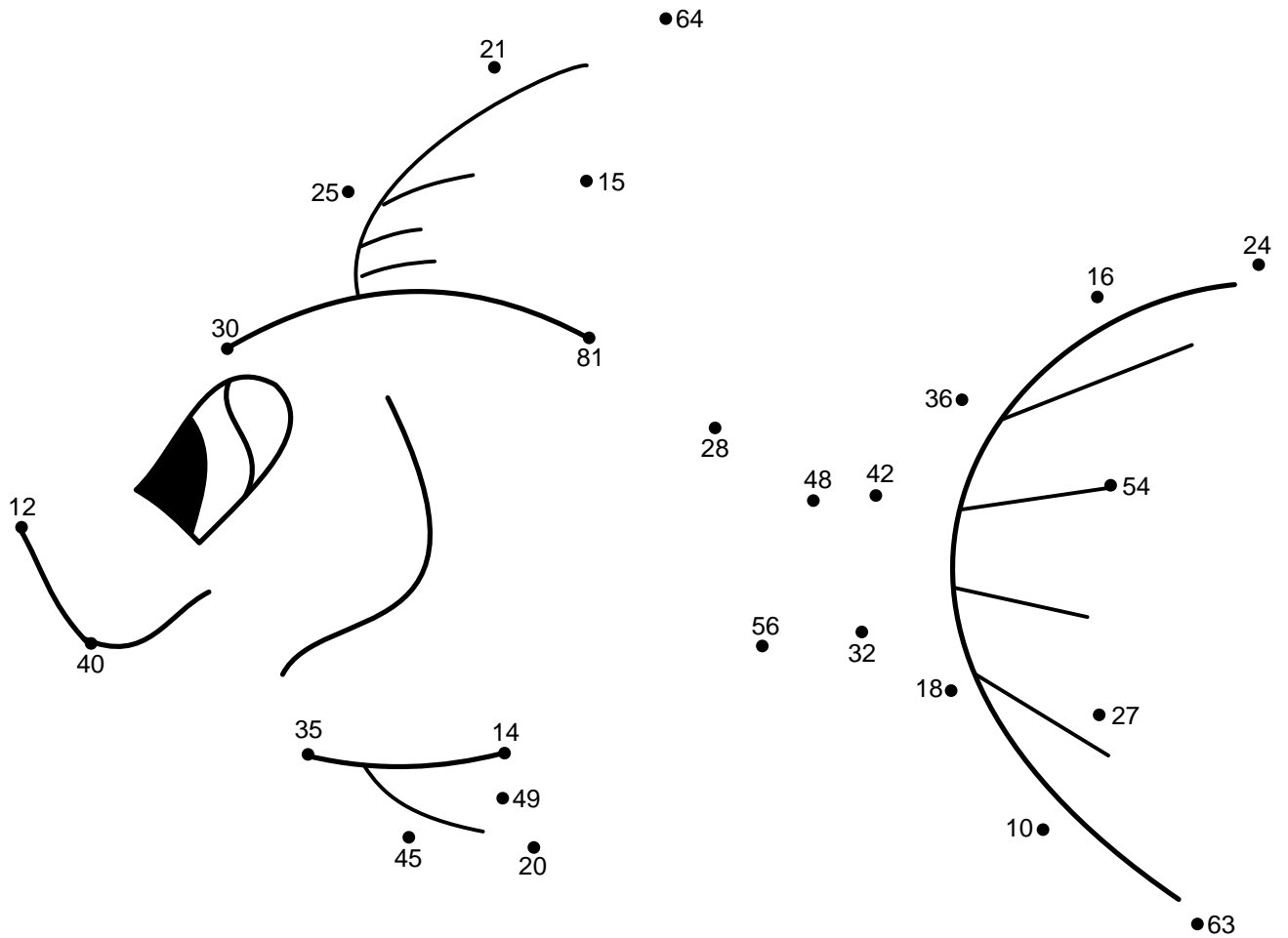



Udregn nedenstående regnestykker for at færdiggøre tegningen. Begynd med regnestykket ud for **Start** og fortsæt med nummer **01** til **25**. Brug resultaterne for at finde den næste prik der skal tegnes til. Når du er færdig kan du farvelægge tegningen.

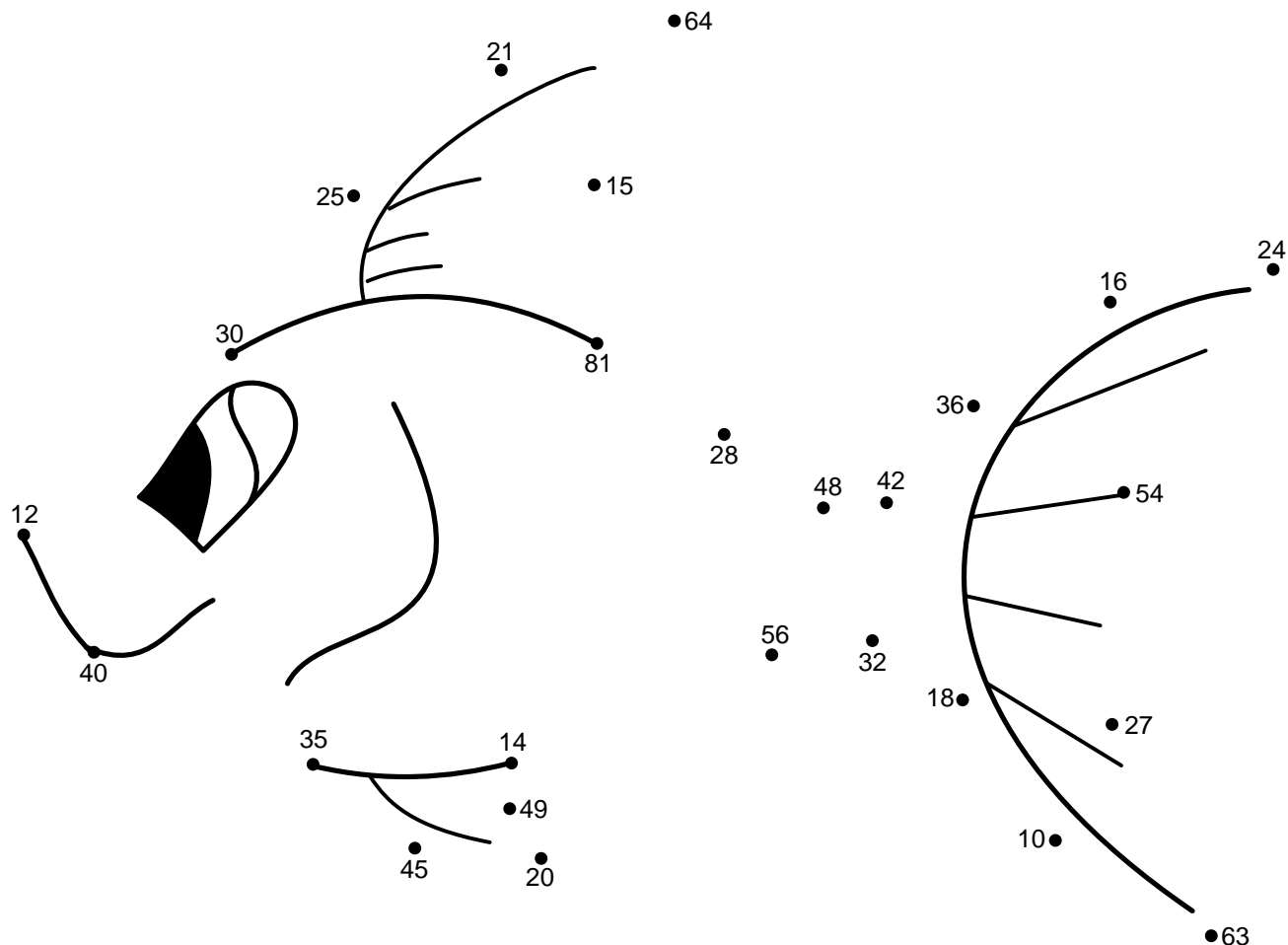


Start $3 \cdot 4 =$

01 $5 \cdot 6 =$	02 $5 \cdot 5 =$	03 $7 \cdot 3 =$	04 $8 \cdot 8 =$	05 $3 \cdot 5 =$
06 $9 \cdot 9 =$	07 $4 \cdot 7 =$	08 $6 \cdot 8 =$	09 $7 \cdot 6 =$	10 $6 \cdot 6 =$
11 $4 \cdot 4 =$	12 $4 \cdot 6 =$	13 $6 \cdot 9 =$	14 $3 \cdot 9 =$	15 $9 \cdot 7 =$
16 $2 \cdot 5 =$	17 $6 \cdot 3 =$	18 $8 \cdot 4 =$	19 $8 \cdot 7 =$	20 $7 \cdot 2 =$
21 $7 \cdot 7 =$	22 $4 \cdot 5 =$	23 $5 \cdot 9 =$	24 $5 \cdot 7 =$	25 $5 \cdot 8 =$



Udregn nedenstående regnestykker for at færdiggøre tegningen. Begynd med regnestykket ud for **Start** og fortsæt med nummer **01** til **25**. Brug resultaterne for at finde den næste prik der skal tegnes til. Når du er færdig kan du farvelægge tegningen.



Start $3 \cdot 4 = 12$

01 $5 \cdot 6 = 30$	02 $5 \cdot 5 = 25$	03 $7 \cdot 3 = 21$	04 $8 \cdot 8 = 64$	05 $3 \cdot 5 = 15$
06 $9 \cdot 9 = 81$	07 $4 \cdot 7 = 28$	08 $6 \cdot 8 = 48$	09 $7 \cdot 6 = 42$	10 $6 \cdot 6 = 36$
11 $4 \cdot 4 = 16$	12 $4 \cdot 6 = 24$	13 $6 \cdot 9 = 54$	14 $3 \cdot 9 = 27$	15 $9 \cdot 7 = 63$
16 $2 \cdot 5 = 10$	17 $6 \cdot 3 = 18$	18 $8 \cdot 4 = 32$	19 $8 \cdot 7 = 56$	20 $7 \cdot 2 = 14$
21 $7 \cdot 7 = 49$	22 $4 \cdot 5 = 20$	23 $5 \cdot 9 = 45$	24 $5 \cdot 7 = 35$	25 $5 \cdot 8 = 40$

